

STOPIEŃ I
KONKURSU GEOGRAFICZNEGO
dla uczniów szkół podstawowych województwa pomorskiego
rok szkolny 2018/2019
19 października 2018

Temat: PALCEM PO MAPIE



Instrukcja:

1. Sprawdź, czy arkusz konkursowy zawiera 11 zadań.
2. Czytaj bardzo uważnie wszystkie teksty, w których znajdziesz potrzebne informacje.
3. W zadaniach zamkniętych spośród podanych odpowiedzi wybierz jedną właściwą i zakreśl ją znakiem **X**.

Przykład: A B C ~~X~~

Jeśli przez pomyłkę zakreślisz nieodpowiednią literę, otocz ją kółkiem, po czym zakreśl znakiem **X** właściwą literę.

Przykład: A B C ~~X~~

4. Odpowiedzi w zadaniach otwartych wpisz w wyznaczone miejsca pod treścią zadań.
5. Gdy popełnisz błąd w zadaniach otwartych, przekreśl złą odpowiedź i obok napisz poprawną.
6. Do udzielania odpowiedzi używaj czarnego lub niebieskiego długopisu albo atramentu.
7. Nie używaj korektora.

Na rozwiązanie zadań masz 45 minut.

Życzę powodzenia

Ewa Maria Tuz

KARTA PUNKTOWANIA

Nr zadania	Liczba punktów	Uzyskane punkty
1.	0 – 3 pkt	
2.	0 – 1 pkt	
3.	0 – 1 pkt	
4.	0 – 1 pkt	
5.	0 – 2 pkt	
6.	0 – 1 pkt	
7.	0 – 1 pkt	
8.	0 – 1 pkt	
9.	0 – 12 pkt	
10.	0 – 1 pkt	
11.	0 – 6 pkt	
Razem	0 – 30 pkt	

Zadanie 1 (0 – 3 pkt)

Dopisz poprawny termin do poniższych opisów:

- a. graficzny obraz powierzchni Ziemi, innego ciała niebieskiego lub nieba na płaszczyźnie, zmniejszony w sposób określony matematycznie, uogólniony i umowny.
- b. kulisty model Ziemi lub innego ciała niebieskiego; także model sfery niebieskiej (głównie nieba)
- c. obraz niewielkiej części powierzchni Ziemi odwzorowanej na płaszczyźnie i przedstawionej na rysunku w skali nie mniejszej niż 1 : 10 000.

Zadanie 2 (0 – 1 pkt)

Cztery mapy wykonane są w różnych skalach. Na której z nich można odczytać najwięcej szczegółów (wybierz poprawną odpowiedź)?

- A. na mapie w skali 1 : 100 000
- B. na mapie w skali 1 : 60 000
- C. na mapie w skali 1 : 25 000
- D. na mapie w skali 1 : 500 000

Zadanie 3 (0 – 1 pkt)

Obwód globusa na równiku wynosi 50 cm. Oblicz, w jakiej skali wykonany został ten globus (wybierz poprawną odpowiedź).

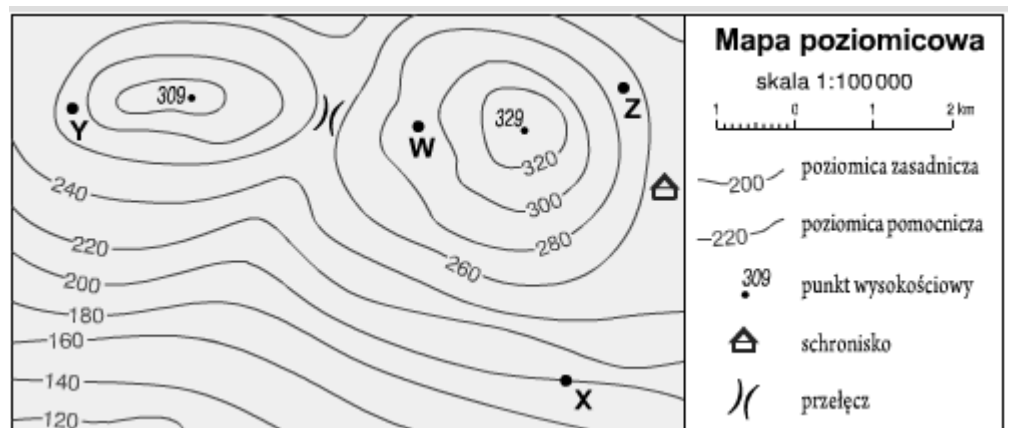
- A. 1 : 30 000 000
- B. 1 : 80 000 000
- C. 1 : 60 000 000
- D. 1 : 100 000 000

Zadanie 4 (0 – 1 pkt)

Odczytaj na mapie wysokość względną punktu W w odniesieniu do punktu X.

Wysokość względną

wynosi



Zadanie 5 (0 – 2 pkt)

Spośród niżej zapisanych skal wybierz A. największą , B. najmniejszą (zapisz poprawne odpowiedzi)? :

- a. 1 : 3 000 000 b. 1cm – 400 000 cm c. $\frac{1}{100\,000}$ d. $\frac{1}{20\,000}$
e. 1 : 5 000 f. 1 : 35 000 000

A. Największa

B. Najmniejsza.....

Zadanie 6 (0 – 1 pkt)

Które dwa południki dzielą kulę ziemską na półkulę wschodnią i półkulę zachodnią (wybierz poprawną odpowiedź)?

- A. 120° E i 60° W
- B. 90° E i 90° W
- C. 180° i 20° W
- D. 0° i 180°

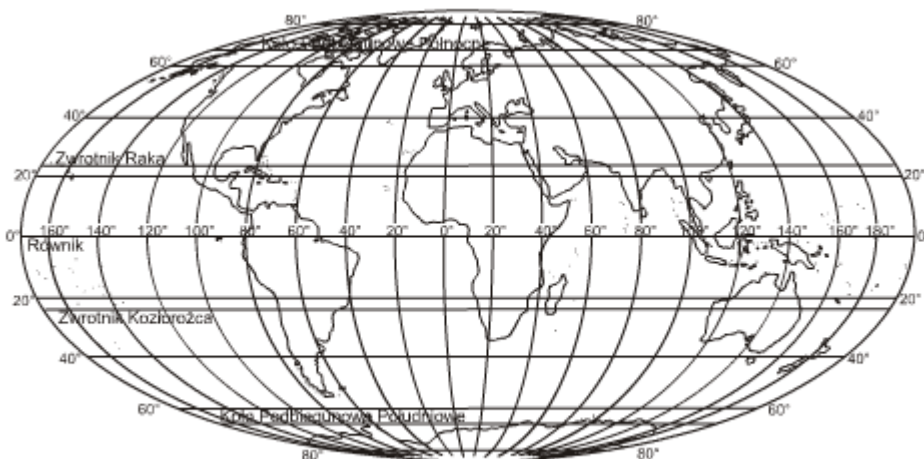
Zadanie 7 (0 – 1 pkt)

Który z wymienionych równoleżników jest najkrótszy (wybierz poprawną odpowiedź)?

- A. koło podbiegunowe północne
- B. zwrotnik Koziorożca
- C. zwrotnik Raka
- D. równik

Zadanie 8 (0 – 1 pkt)

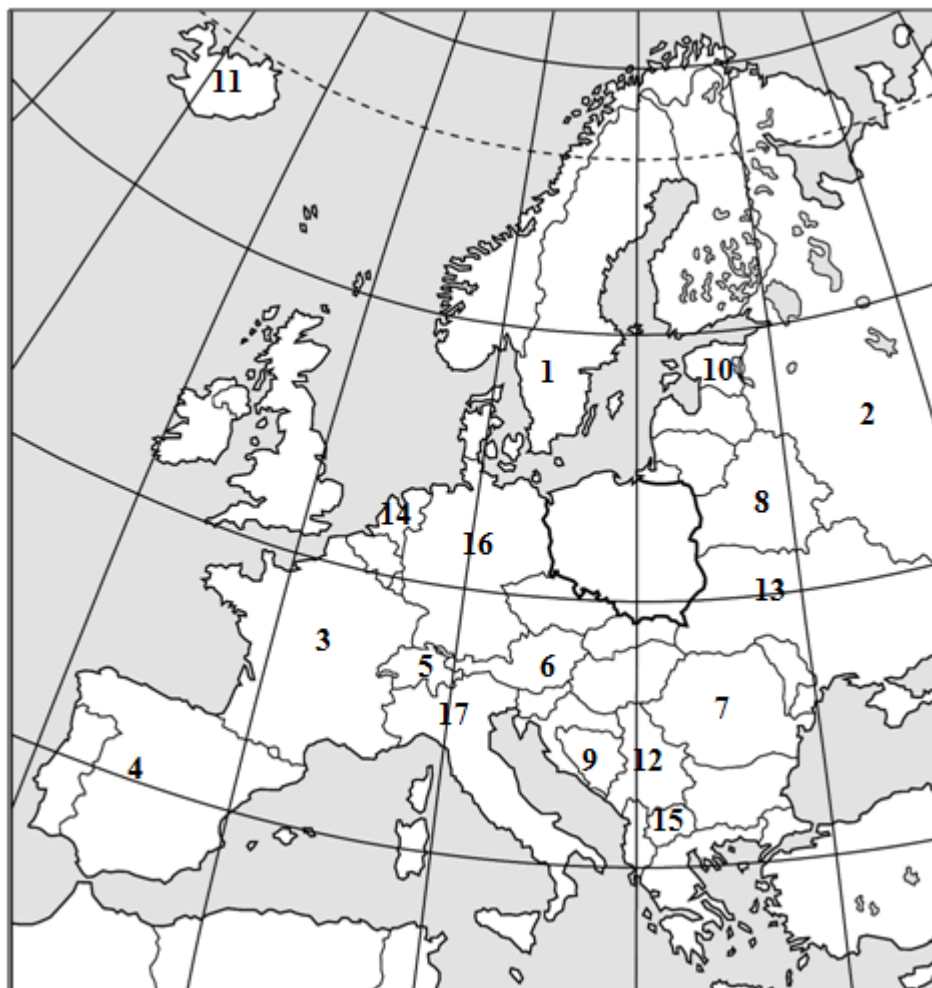
Zapisz poniżej nazwę kontynentu, na którym położony jest punkt o współrzędnych geograficznych 40° N, 100° W.



Nazwa kontynentu

Zadanie 9 (0 – 12 pkt)

Na poniższym schemacie mapy politycznej liczbami od 1 do 17 zaznaczono wybrane państwa Europy. Uzupełnij poprawnie tabelę wpisując obok opisu poprawną nazwę państwa, nazwę jego stolicy oraz numer przyporządkowania na mapie.

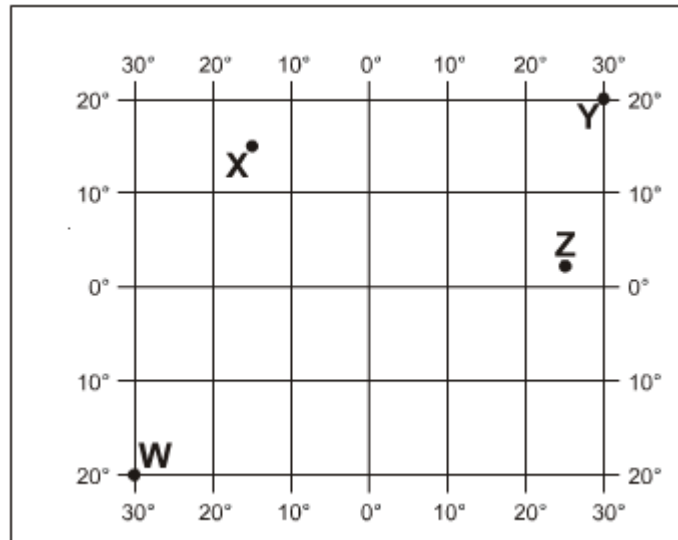


Opis państwa	Nazwa państwa	Nazwa stolicy	Nr na mapie
<i>Państwo federacyjne położone w zachodniej i środkowej Europie. Składa się z 16 krajów związkowych (landów). Z ponad 80 milionami mieszkańców jest najludniejszym państwem Unii Europejskiej.</i>			
<i>Jest górzystym państwem położonym w Europie Zachodniej. Nie posiada dostępu do morza. Przez państwo to przepływa Dunaj.</i>			
<i>Od 1991 jest państwem suwerennym. Sąsiaduje z Polską. Krajobraz składa się głównie ze stepów i wyżyn; na zachodzie rozciągają się Karpaty.</i>			
<i>Państwo w zachodniej części Europy Południowej, położone głównie na Półwyspie Iberyjskim, obejmujące także Baleary na Morzu Śródziemnym, Wyspy Kanaryjskie na Oceanie Atlantyckim, mniejsze wysepki oraz tereny w północnej Afryce. Jest jednym z najczęściej odwiedzanych państw przez turystów na świecie.</i>			

Zadanie 10 (0 – 1 pkt)

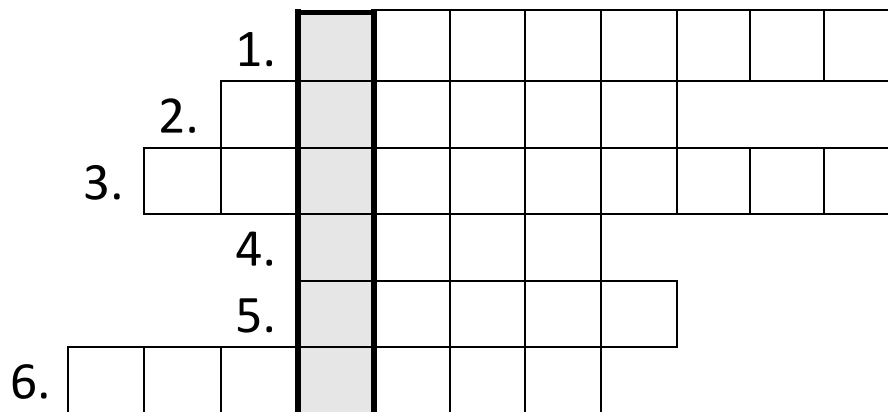
Odczytaj na rysunku współrzędne geograficzne punktu X i zaznacz poprawną odpowiedź.

- A. 15° szer. geogr. północnej, 15°
dł. geogr. wschodniej
- B. 15° szer. geogr. północnej, 15°
dł. geogr. zachodniej
- C. 15° szer. geogr. południowej, 15°
dł. geogr. zachodniej
- D. 15° szer. geogr. południowej, 15°
dł. geogr. wschodniej



Zadanie 11 (0 – 6 pkt.)

Rozwiąż logogryf.



1. kanał, jeden z dwóch żeglownych na świecie łączących dwa oceany
2. cieśnina łączącą Morze Czarne z Morzem Marmara
3. cieśnina stanowiąca największą część kanału La Manche, położona we wschodniej jego części, w miejscu gdzie łączy się z wodami Morza Północnego
4. cieśnina na Morzu Bałtyckim, należąca do Cieśnin Duńskich
5. cieśnina oddzielająca grecką wyspę Korfu od wybrzeży Albanii
6. cieśnina łącząca Morze Adriatyckie z Morzem Jońskim